

MIKULÁŠSKÉ UČENÍ

BĚHACÍ POČÍTÁNÍ

ŠIFROVÁNÍ, GEOMETRICKÉ TVARY

ANALYTICKO-SYNTETICKÁ CVIČENÍ

OMALOVÁNKA, ČTENÍ S POROZUMĚNÍM



☆ SLOŽ Z PÍSMEN SLOVO A NAPIS HO NA LINKU



♥ NADĚJ SLABIKU KE SLOVU ŠIFROVÁ JE, KTERÁ SLABKA ZNÍMEK ZKROUŽKOU JE

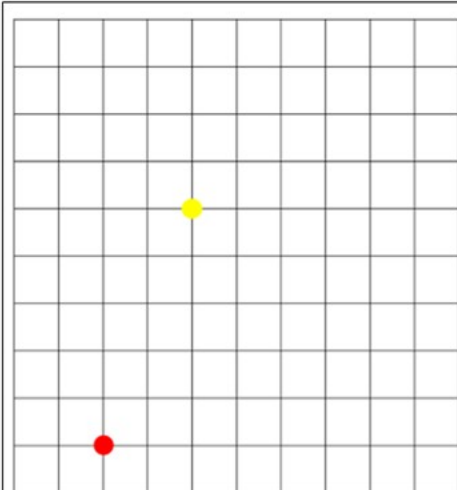

U	sa	l	me	o
la	má	o	po	se
pe	o	o	o	o

☆ VYPOČÍTEJ PŘÍKLADY ROZMÍSTĚNÉ PO ŘÁDE A VÝSLEDEK NAPIS POD SPRÁVNÝ OBRÁZEK

♥ PODELE OBRÁZKY TVOŘ PŘÍKLADY A VYPOČÍTEJ JE

+ = ?	+ = ?	+ = ?
- = ?	- = ?	- = ?

☾ SPOČÍTEJ KOLIK GEOMETRICKÝCH TVARŮ JE NA OBRÁZKU ČÍSLO NAPIS DO KÁMELČKY POMAHEJ SI PRSTÍČKY



• 5↑ 3→ 3↙ 5↓ 6←

• 2→ 1↓ 1→ 1← 2↓ 2←
2↑ 1← 1↑

$5 - 5 =$



$4 + 1 =$



$3 + 0 =$



$1 + 3 =$



$4 - 2 =$



$5 - 2 =$



DĚKUJI ZA ZAKOUPENÍ MATERIÁLU

Děkuji, že materiál používáte pouze pro své účely a nebudete jej dál šířit.

© I ♥ sCOOL

Přeji mnoho užitých vyučovacích hodin Vám i žákům.



 ilovescool@seznam.cz

SLEDUJ MĚ



I ♥ sCOOL
výukové materiály



METODIKA

► **PŘEDMĚT:** matematika, český jazyk

► **ZAŘAZENÍ:** 1. ročník

► **MATERIÁL OBSAHUJE:**

- » 6 příkladů (kartiček) k běhacímu učení
- » 2 pracovní listy - matematiky, český jazyk
- » omalovánku + diktát - čtení s porozuměním
- » cestu v síti
- » výsledky pro učitele

► **NEŽ ZAČNETE S MATERIÁLEM PRACOVAT:**

Materiál vytiskněte. Příklady nastříhejte na karty a rozmístěte je po třídě. Pracovní listy doporučuji vytisknout oboustranně.

► **VÝUKOVÝ CHARAKTER:**

Tento tematický výukový materiál je určen pro žáky 1. ročníku základní školy a přináší zábavné a interaktivní aktivity inspirované postavami Mikuláše, čerta a anděla. Žáci si hravou formou procvičí matematiku, český jazyk, čtení i kreslení, a to prostřednictvím pestrých úkolů.

Běhací počítání: Žáci hledají po třídě příklady na sčítání a odčítání v oboru 0-5, řeší je a zapisují výsledky do připraveného pracovního listu.

Pracovní list z matematiky: Obsahuje zábavné šifrování příkladů, poznávání geometrických tvarů a procvičování počítání v kontextu mikulášské tematiky.

Pracovní list z českého jazyka: Aktivity zahrnují skládání slov z písmen, psaní slov a hledání „vetřelců“ při přiřazování slabik k obrázkům.

Cesta v síti: Žáci podle daného kódu kreslí obrázek, který tematicky odpovídá Mikuláši.

Omalovánka s porozuměním: Paní učitelka čte jednoduché instrukce a podle nich žáci vybarvují obrázek, čímž si procvičují čtení s porozuměním.

► **ZDROJE OBRÁZKŮ:**



$$5 - 5 =$$




$$1 + 3 =$$




$$3 + 0 =$$



$$4 - 2 =$$



$$3 - 2 =$$



$$4 + 1 =$$



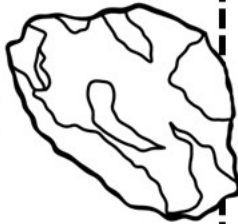
$5 - 5 =$




$1 + 3 =$




$3 + 0 =$




$4 - 2 =$









$3 - 2 =$




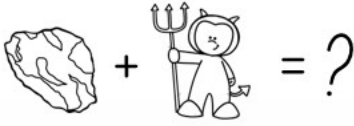




$4 + 1 =$



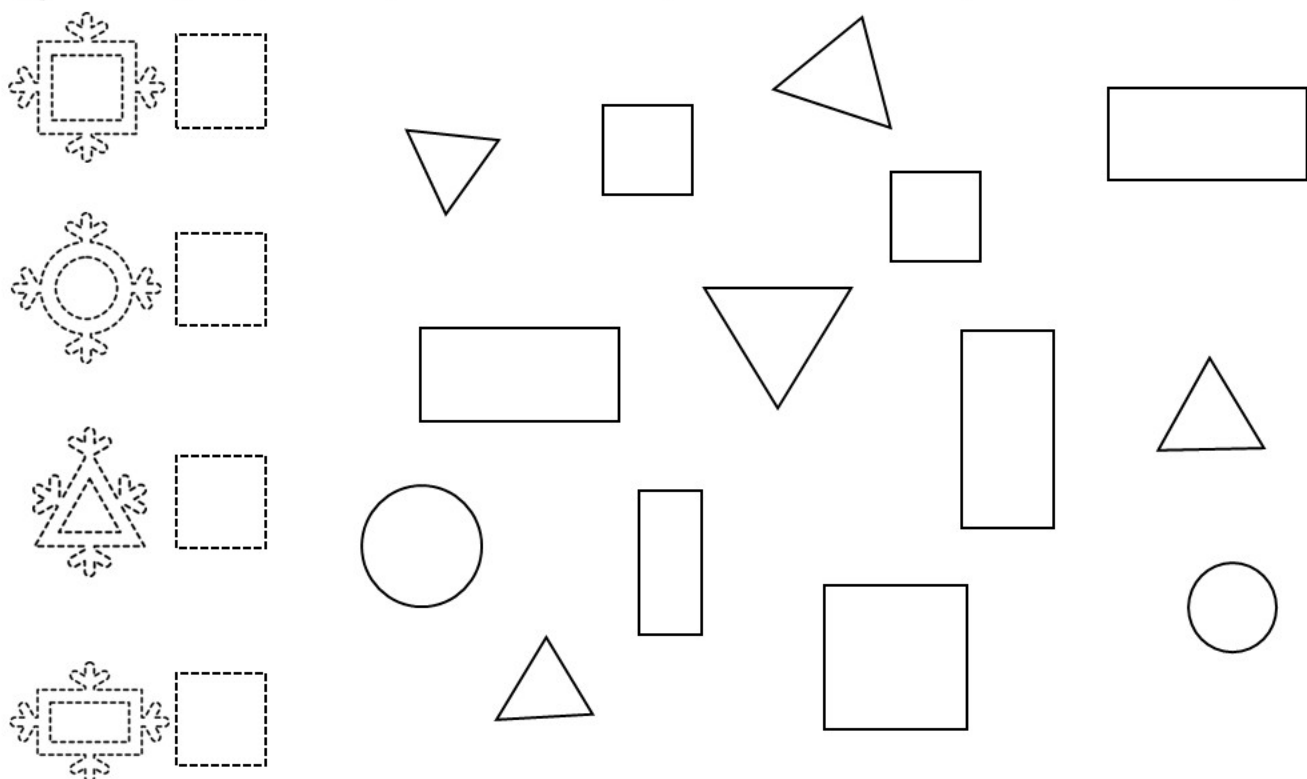
☆ VYPOČÍTEJ PŘÍKLADY ROZMÍSTĚNÉ PO TŘÍDĚ A VÝSLEDEK NAPIŠ POD SPRÁVNÝ OBRÁZEK.


♡ PODLE TABULKY TVOŘ PŘÍKLADY A VYPOČÍTEJ JE.

 <hr/> <hr/>	 <hr/> <hr/>	 <hr/> <hr/>
 <hr/> <hr/>	 <hr/> <hr/>	 <hr/> <hr/>








☾ SPOČÍTEJ, KOLIK GEOMETRICKÝCH TVARŮ JE NA OBRÁZKU. ČÍSLO NAPIŠ DO RÁMEČKU. POMÁHEJ SI PASTELKAMI.



☆ SLOŽ Z PÍSMEN SLOVO A NAPIŠ HO NA LINKU.



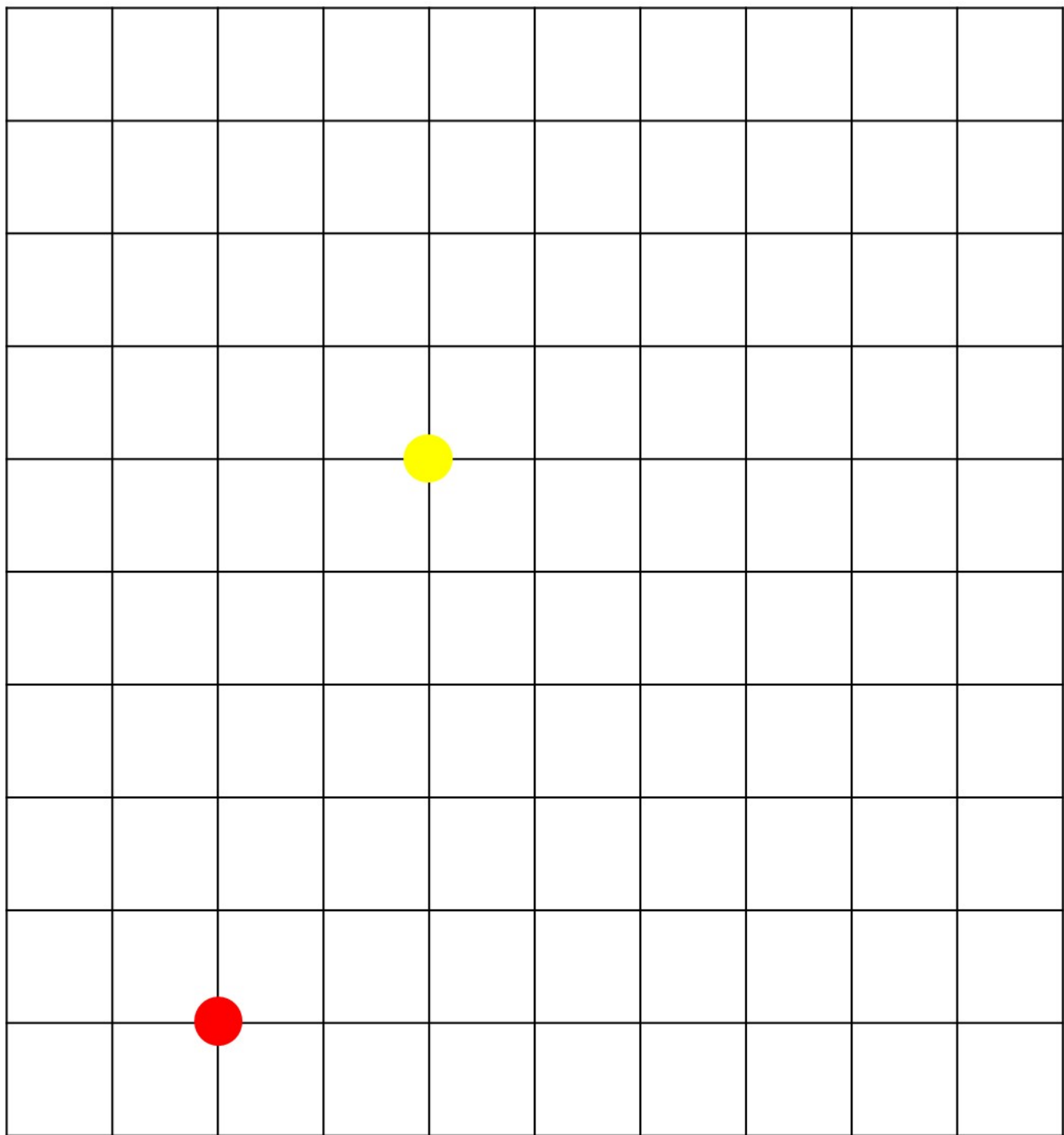
♡ NAJDI SLABIKU K OBRÁZKU, ŠKRTNI JE, KTERÁ SLABIKA ZBYDE? ZAKROUŽKUJ JI.

	sa		me	
la	má		po	se
pe			lí	



DIKTÁT - OMALOVÁNKA







1. MIKULÁŠ MÁ ČERVENÝ PLÁŠŤ.
2. JEHO ČEPICE JE ČERVENÁ A MÁ ŽLUTÝ KŘÍŽ.
3. VOUSY MIKULÁŠE JSOU BÍLÉ.
4. ANDĚL MÁ ŽLUTÉ VLASY.
5. ŠATY ANDĚLA JSOU SVĚTLE MODRÉ A ŽLUTÉ (ZLATÉ).
6. KŘÍDLA ANDĚLA JSOU BÍLÁ.
7. ČERTI MAJÍ ČERVENÉ ROHY A KOŽICH.
8. ČERTI MAJÍ ČERNÉ ROHY A OCAS.
9. ČERTOVI VIDLE JSOU HNĚDÉ..



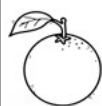











● $5\uparrow$ $3\nearrow$ $3\swarrow$ $5\downarrow$ $6\leftarrow$

● $2\rightarrow$ $1\downarrow$ $1\rightarrow$ $1\downarrow$ $1\leftarrow$ $2\downarrow$ $2\leftarrow$
 $2\uparrow$ $1\leftarrow$ $1\uparrow$ $1\rightarrow$ $1\uparrow$


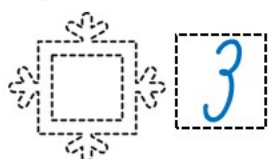
☆ VYPOČÍTEJ PŘÍKLADY ROZMÍSTĚNÉ PO TŘÍDĚ A VÝSLEDEK NAPIŠ POD SPRÁVNÝ OBRÁZEK.

					
0	4	2	3	1	5

♡ PODLE TABULKY TVOŘ PŘÍKLADY A VYPOČÍTEJ JE.

 +  = ? $1 + 4 = 5$	 +  = ? $3 + 2 = 5$	 +  = ? $5 + 0 = 5$
 -  = ? $2 - 0 = 2$	 -  = ? $5 - 1 = 4$	 -  = ? $4 - 4 = 0$

☾ SPOČÍTEJ, KOLIK GEOMETRICKÝCH TVARŮ JE NA OBRÁZKU. ČÍSLO NAPIŠ DO RÁMEČKU. POMÁHEJ SI PASTELKAMI.



☆ SLOŽ Z PÍSMEN SLOVO A NAPIŠ HO NA LINKU.



LES

SOLÍ

LASO

LUPA

PASE








PES

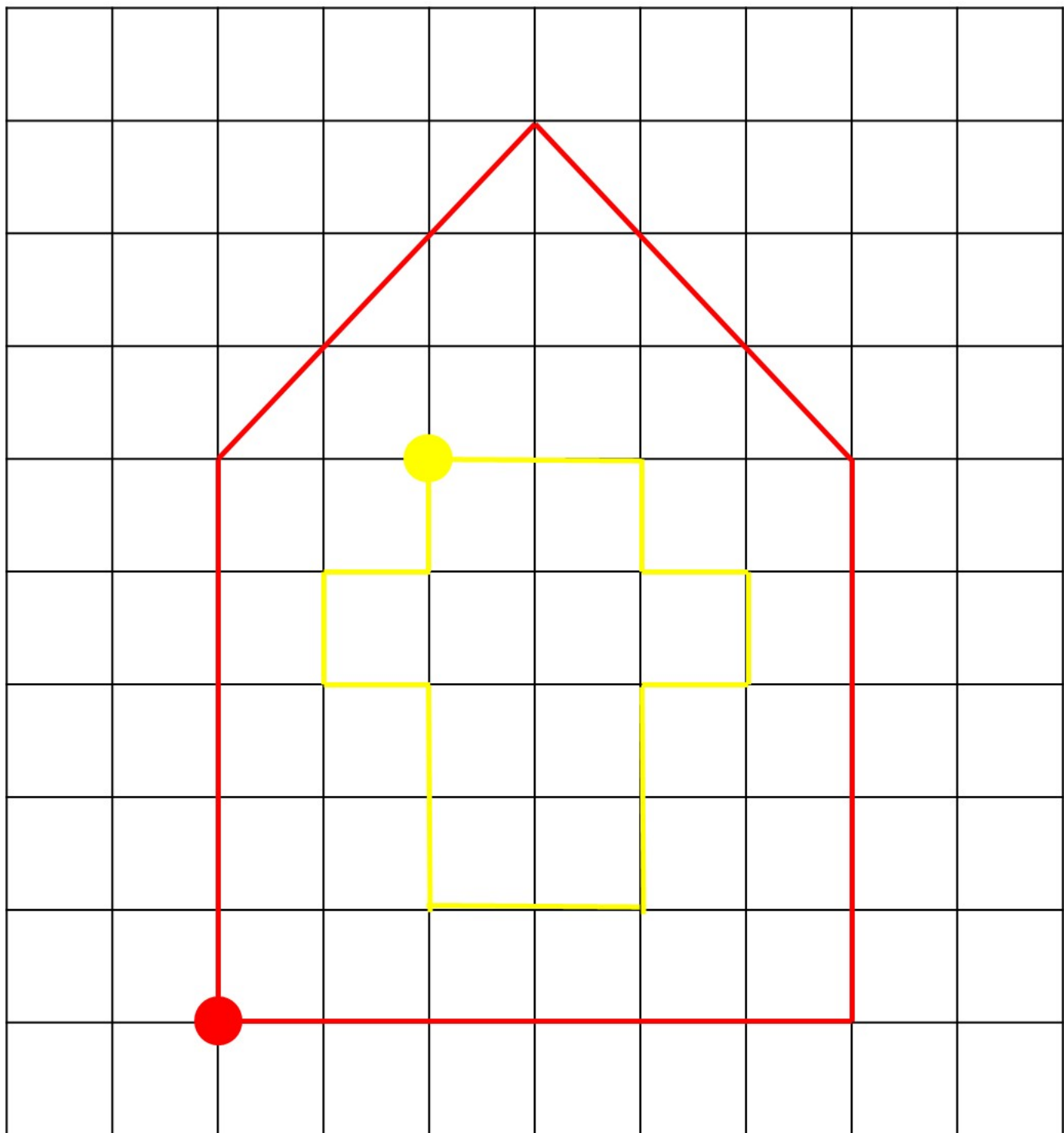
MAPA

LAMA

LEM

♡ NAJDI SLABIKU KE SLOVU, ŠKRTNI JE. KTERÁ SLABIKA ZBYDE? ZAKROUŽKUJ JI.

	sa		me	
la	má		po	se
pe			li	



● $5\uparrow$ $3\nearrow$ $3\swarrow$ $5\downarrow$ $6\leftarrow$

● $2\rightarrow$ $1\downarrow$ $1\rightarrow$ $1\downarrow$ $1\leftarrow$ $2\downarrow$ $2\leftarrow$
 $2\uparrow$ $1\leftarrow$ $1\uparrow$ $1\rightarrow$ $1\uparrow$


DOPORUČUJI TAKÉ ZAKOUPIT

POČÍTÁNÍ DO 5 ZAPISOVÁNÍ PŘÍKLADŮ 28 KARET




ČTENÍ PRVNÍCH SLABIK

M, L, S, P, A, E, I, O, U
30 DOMINOVÝCH KARET VE 3 VERZÍCH
BAREVNÁ I ČERNOBÍLÁ VARIANTA



NAJDI VETŘELCE

ANALÝZA A SYNTÉZA SLOV
ČTENÍ OTEVŘENÝCH SLABIK
MALÁ I VELKÁ TISKACÍ PÍSMENA



ZAŠIFROVANÁ SLOVA

HRA SE SLOVY
ROZVOJ JAZYKOVÝCH DOVEDNOSTÍ
M, L, S, P, T, A, E, I, O, U

